


“JUEGO PIRATA”



Więcej kolorowanek na: www.kolorowanekidladzieci.org

EQUIPO N°: _____

INTEGRANTES: _____

ENCUENTREN LAS PISTAS, DESBLOQUEENLAS Y LLEGARÁN AL GRAN TESORO.

¿ESTÁN LISTOS? PREPARADOS... ¡A COMENZAR!

PISTA 1:

Los piratas de Garfio estaban ordenando sus trofeos en los 7 estantes de la biblioteca. Si colocan 5 en cada uno.
¿Cuántos trofeos tienen en total?

¿CÓMO LO RESOLVERÍAN?

RESPUESTA:

Muy bien, si pudieron resolver la primera pista ahora podrán ir en busca de la segunda, y para hacerlo tendrán que seguir las siguientes instrucciones:

- Salgan del aula y diríjense hacia las escaleras del sector verde.
 - Bajen y encontrarán la pista cerca de un lugar que nos brinda calor en los días de frío.
 - ¿De qué lugar se trata?
- _____

PISTA 2:



En varios de sus viajes, Garfio logró robarse mucho dinero para colocar en su cofre especial.

Piensen cómo podrían desarmar estas cantidades de dinero:

\$5.678

\$3.246

\$3.953

\$4.821

¡Qué bien! Ya pudieron resolver una pista más. Ahora presten atención, para encontrar la siguiente sigan el camino:

“Es una sala muy linda y siempre que vamos nos llenamos de alegría. En ella podemos hacer varias cosas a la vez, pero es una de las pocas que se transforma en lo que es. Y si vamos los miércoles al mediodía, la encontramos a Ine haciendo monerías...”

¿Qué lugar es? _____

PISTA 3:



couleurmoka

En esta oportunidad tendrán que usar su creatividad. Cada uno pensará dos palabras que describirán a estos personajes, pero para hacerlo deberán tener en cuenta cómo son en su historia real...

WENDY: _____

SMEE: _____

GARFIO: _____

CAMPANITA: _____

¿QUÉ CLASE DE PALABRAS USARON? SE LLAMAN: _____


¡GENIAL! Cada vez están más cerca de encontrar el tesoro perdido. Pero esta vez, deberán adivinar el lugar que esconde la siguiente pista:

“Dentro de unos años ustedes usarán ese lugar para seguir aprendiendo y trabajar.

Son solo 4 los años que faltan para llegar y disfrutar el último año de la primaria.”

¿En qué espacio estarán?

PISTA 4:



Ahora si, a pensar... ¿Qué cosas podemos encontrar en la casa de Peter Pan? Anoten 4 palabras y luego inventen un cuento corto utilizando las 4 palabras que escribieron.

¿Qué nombre reciben estas palabras? _____


¡Ya están muy cerca! Ahora, a descubrir el próximo lugar donde se encuentra la siguiente pista:

“Si nos preguntan cómo es, podemos decir pequeña o grande tal vez.

Depende para qué la utilicemos, pero si nos gusta pintar, crear o dibujar,

Entonces la _____ es”

PISTA 5:



En la casa de Wendy, John y Michael guardan sus juguetes en canastos para que no queden desordenados.

- Si tienen 4 canastos y en cada uno guardan 5 juguetes. ¿Cuántos juguetes tienen en total?

RESPUESTA: _____

- Si tienen varios muñecos de peluche y para ordenarlos deciden guardar 3 en cada uno de los canastos (recuerden que tenían 5 canastos) para que todos tengan la misma cantidad. ¿Cuántos muñecos de peluche tienen en total?

RESPUESTA: _____

- A Wendy le gusta leer historias diferentes todas las noches, pero prefiere acomodar los libros en los estantes de su biblioteca. Si la biblioteca tiene 3 estantes y quiere colocar sus 15 libros en ellos, pero que todos tengan la misma cantidad de libros. ¿Cuántos libros colocará en cada estante?

RESPUESTA: _____

- Michael prefiere jugar con autitos. En total tiene 25 y su mamá guarda la misma cantidad en cada uno de los 5 canastos. ¿Cuántos autitos coloca en cada canasto?

RESPUESTA: _____

Ahora sí... Para llegar al próximo lugar tienen que pensar, ¿dónde encontramos a Jose siempre que tenemos una duda o necesitamos de su ayuda?:

PISTA 6:



Como ya estamos llegando al final, qué mejor que ordenar estas oraciones que provienen de la historia original.

Tendrán que recordar lo que escucharon en clase sobre lo que pasó con Peter Pan...

se / señora / estremeció / La / y / ventana. / Darling / se / a / la / acercó

la / Campanita / sombra / dijo / la / que / caja / estaba / grande. / en

chicos / Los / largos / pasaban / verano / laguna. / esa / días / en / de

Garfio / El / estaba / auténtico / también / agua. / en / el

¡Excelente trabajo! Lograron completar el recorrido y buscar la pista final.

Esta pista está en un lugar especial, un lugar donde todos juntos nos sentimos a gusto y sabemos que podemos confiar en los demás. Un lugar en donde una persona especial los quiere con todo su corazón y trata de disfrutar todos los días enseñándoles y aprendiendo todo lo que tienen para mostrar.

Este lugar es: _____

PISTA 7:



Llegaron a la última pista, pero para poder obtener el tesoro perdido tendrán que resolver los siguientes cálculos mentales. ¡ADELANTE!

$$200 + 30 + 5 = \underline{\hspace{2cm}}$$

$$340 - 40 = \underline{\hspace{2cm}}$$

$$2 \times 20 = \underline{\hspace{2cm}}$$

$$5 \times 4 = \underline{\hspace{2cm}}$$

$$1.000 + 600 + 2 = \underline{\hspace{2cm}}$$

$$890 - 800 = \underline{\hspace{2cm}}$$

$$300 + 40 + 8 = \underline{\hspace{2cm}}$$

$$560 - 60 = \underline{\hspace{2cm}}$$

$$3 \times 10 = \underline{\hspace{2cm}}$$

$$6 \times 3 = \underline{\hspace{2cm}}$$

$$2.000 + 300 + 6 = \underline{\hspace{2cm}}$$

$$750 - 700 = \underline{\hspace{2cm}}$$

$$200 + 70 + 8 = \underline{\hspace{2cm}}$$

$$520 - 20 = \underline{\hspace{2cm}}$$

$$2 \times 15 = \underline{\hspace{2cm}}$$

$$4 \times 10 = \underline{\hspace{2cm}}$$

$$1.000 + 400 + 9 = \underline{\hspace{2cm}}$$

$$460 - 60 = \underline{\hspace{2cm}}$$

$$400 + 50 + 4 = \underline{\hspace{2cm}}$$

$$370 - 70 = \underline{\hspace{2cm}}$$

$$5 \times 2 = \underline{\hspace{2cm}}$$

$$3 \times 20 = \underline{\hspace{2cm}}$$

$$2.000 + 600 + 50 = \underline{\hspace{2cm}}$$

$$680 - 80 = \underline{\hspace{2cm}}$$

¡LOS FELICITO! Lograron desbloquear todas las pistas para obtener el PREMIO FINAL.

Ahora sí... ¡A DISFRUTAR!